

KENDRIYA VIDYALAYA SANGATHAN

REGIONAL OFFICE - BHOPAL

CLASS – V

CBT

SUBJECT – ENGLISH

Syllabus covered – Rip Van Winkle

(A) Read the following passage and answer the questions.

(Sarah is an artist. She loves to paint beautiful pictures. Today, she is the beach painting scenery with a golden sand castle. Sarah also adds sea shells and colourful beach umbrellas)

Now Tick (v) correct options-

Q.1 What types of artist Sarah is?

- a) Designer
- b) Painter
- c) writer
- d) Dances

Ans: b) Painter

Feedback : a person who paint beautiful pictures is a painter

Q.2 Sarah is painting the beach scenery. in which, she made golden sand-castle, means, she has made -

- a) structures of Sand
- b) shells of sand
- c) sea-shells
- d) structure of shells

Ans a) Structure of sand.

Feedback : a small model of a castle or other structure that is made with sand on a beach is sand-castle.

SECTION-B(Writing)

Q3 Rip Van Winkle was very kind hearted but he-

- a) Was not a good neighbour
- b) Was very lazy
- c) Did not like children
- d) worked very hard.

Ans. b) Was very lazy

Feedback : Rip Van Winkle was very lazy.

Q.4 Rip Van Winkle's only companion was a dog. His name was-

- a) Lion
- b) wolf
- c) sherao
- d) Bruno

Ans- b) WOLF

Feedback : Rip Van Winkle's only companion was a dog named wolf

SECTION C (Grammar)

Q.5 The Past tense of sentence- 'I go to sleep' is-

- a) I will go to sleep
- b) I should go to sleep
- c) I am went to sleep
- d) I went to sleep.

Ans. d) I went to sleep.

Feedback : The Past tense of sentence- 'I go to sleep' is- I went to sleep.

Q6. If a person is having long moustache, only one eye and a ear with two lobes. We The best describing word for him will be –

- a) Long-structured
- b) well dressed
- c) Odd-looking
- d) good natured

Ans. c) Odd-looking

Feedback : If a person is having long moustache, only one eye and a ear with two lobes is Odd-looking

SECTION D: SPELLINGS.

Q7. Tick (v) the word, where 'ue' are not silent letters-

- a) Mosque.
- b) tongue
- c) Cheque
- d) guess

Ans. d) guess.

Feedback : 'ue' is not silent in guess

Q8. Tick (v) the word with silent letter in it-

- a) Kite
- b) knife
- c) Kaat-skill
- d) Kill

Ans. b) knife

Feedback : 'k' is silent in knife

SECTION E: VOCABULARY.

Q.9 Tick (v) the word, which means - **known to you'** -

- a) companion
- b) familiar
- c) neighbour
- d) friend.

Ans b) familiar

Feedback : known to you' means familiar.

Q10. Fick the correct meaning of "**realise**"

- a) real
- b) to understand
- c) to set free
- d) release.

Ans b) to understand

Feedback : realise means to know and understand that something is true or that something has happened.

केंद्रीय विद्यालय संगठन

क्षेत्रीय कार्यालय - भोपाल

कक्षा - पाचवीं

विषय - हिंदी

पाठ्यक्रम एक माँ की बेबसी (कविता), एक दिन की बादशाहत (कहानी), चावल की रोटियाँ (नाटक)

पठन

अनुच्छेद को ध्यान पूर्वक पढ़कर नीचे दिए गए प्रश्नों के सही उत्तर का चयन कीजिये

स्वस्थ शरीर में स्वस्थ मस्तिष्क का वास होता है। इसके लिए मनुष्य को मानसिक व शारीरिक रूप से स्वस्थ होना आवश्यक है। स्वस्थ मानसिकता ही स्वच्छ समाज को जन्म देती है।

(१) स्वस्थ मानसिकता किसको जन्म देती है?

(क) स्वस्थ मनुष्य को

(ख) स्वच्छ समाज को

(ग) स्वस्थ मस्तिष्क को

(घ) स्वस्थ शरीर को

उत्तर (ख) स्वच्छ समाज को

Feedback : स्वस्थ मानसिकता ही स्वच्छ समाज को जन्म देती है।

(२) शरीर से संबंधित शब्द कौन सा होगा?

(क) मानसिक

(ख) शारीरिक

(ग) स्वच्छ

(घ) स्वस्थ

उत्तर (ख) शारीरिक

1. **Feedback :** शरीर संबंधी (जैसे-शारीरिक कष्ट, शारीरिक बल)।

लेखन

(१) 'नाटक' में जिनकी भूमिका ज्यादा महत्वपूर्ण नहीं होती है, उन्हें क्या कहा जाता है?

(क) मुख्य पात्र

(ख) उपयुक्त पात्र

(ग) गौण पात्र

(घ) अभिनय पात्र

उत्तर (ग) गौण पात्र

Feedback : जिन पात्रों की भूमिका महत्वपूर्ण होती है उन्हें 'मुख्य पात्र' और जिनकी भूमिका ज्यादा महत्वपूर्ण नहीं होती है उन्हें 'गौण पात्र' कहते हैं।

(२) आरिफ और सलीम ने एक दिन के लिए बड़ों के अधिकार लेकर अपनी मनमानी करने का प्रयास किया, 'यदि आपको, एक दिन का मे अधिकार मिले, तो आप कौन-से दो काम ऐसे करेंगे, जिससे घर के बड़े लोग प्रसन्न और संतुष्ट होने के साथ आप पर गर्व महसूस करे

(क) बहुत देर तक खेलेंगे। बड़ों के कामों में सहायता करेंगे।

(ख) बहुत देर तक सोयेंगे। अपना मनपसंद खाना पकवायेगे।

(ग) बूढ़ों का आदर व सम्मान करेंगे। जो काम नहीं आता, बड़ों से पूछकर करेंगे।

(घ) अपना स्कूल का गृहकार्य दूसरों से करवायेगे। बड़ों की अच्छी बातों पर पूरा ध्यान देंगे।

उत्तर (ग) बूढ़ों का आदर व सम्मान करेंगे। जो काम नहीं आता, बड़ों से पूछकर करेंगे।

Feedback : दो काम ऐसे जिससे घर के बड़े लोग प्रसन्न और संतुष्ट होने के साथ आप पर गर्व महसूस करे वह कार्य आदर सम्मान देना और जो काम नहीं आता, बड़ों से पूछकर करना है .

व्याकरण

(1) नीचे दिए गए वाक्य में मुहावरे के अर्थ का प्रयोग किया गया है, उसके नीचे दिए गए विकल्पों में से उपयुक्त मुहावरे का चयन कीजिए।

ऐसा व्यक्ति जो हमेशा सही रास्ते पर चलने वाला हो, पर किसी कारण से वह कुछ गलत कार्य कर देता है, तो वह लोगों के सामने जाने से भी करता है।

(क) आँखे मूंद लेना।

(ख) आँखे खुलना।

(ग) आँख चुराना।

(घ) आँखों पर पर्दा पड़ना

उत्तर (ग) आँख चुराना।

Feedback : संकोच के कारण सामने आने से बचना, छिप जाना, नज़र बचाना, सामना करने से बचना। 'आँख चुराना' का अर्थ नजर बचाना होता है।

2 निम्नांकित पंक्तियों में से तीन सही विशेषण शब्दों का चयन करके सही उत्तर का चयन कीजिए।

रतन बहुत होशियार लड़का होने के साथ ही एक सभ्य व्यक्ति भी है। वह शरारती लड़को से दूर ही रहता है।

(क) लड़का, व्यक्ति, अमन

(ख) होशियार, व्यक्ति, सभ्य

(ग) शरारती होशियार, लड़का

(घ) शरारती, होशियार, सभ्य

उत्तर (घ) शरारती, होशियार, सभ्य

Feedback : रतन बहुत होशियार लड़का होने के साथ ही एक सभ्य व्यक्ति भी है। वह शरारती लड़को से दूर ही रहता है।

वर्तनी

(१) वर्तनी की दृष्टि से सही शब्द का चयन कीजिए।

(क) मुयायना

(ख) मुआयना

(ग) मुआईना

(घ) मुयाअना

उत्तर (ख) मुआयना

Feedback : वर्तनी की दृष्टि से सही शब्द मुआयना होगा

(२) 'दृष्टि' शब्द का तुक वाला शब्द कौन-सा होगा?

(क) दृश्य

(ख) अवश्य

(ग) सृष्टि

(घ) दर्शन

उत्तर (ग) सृष्टि

Feedback : 'दृष्टि' शब्द का तुक वाला शब्द सृष्टि होगा

शब्द- भंडार

(१) सलीम, रतन नाटक - वर्णमाला के अनुसार शब्दों के सही क्रम का चयन कीजिए।

- (क) रतन, सलीम, नाटक
- (ख) सलीम, नाटक, रतन
- (ग) नाटक, रतन, सलीम
- (घ) रतन, नाटक, सलीम

उत्तर (ग) नाटक, रतन, सलीम

Feedback : न, र, स

(2) नाटक में पात्रों को जो बात बोलनी होती है उसे क्या कहते हैं? सही उत्तर का चयन कीजिये

- (क) भूमिका
- (ख) अभिनय
- (ग) संवाद
- (घ) बहस

उत्तर (ग) संवाद

Feedback : नाटक में पात्रों को जो बात बोलनी होती है उसे संवाद कहते हैं

KENDRIYA VIDYALAYA SANGATHAN

REGIONAL OFFICE - BHOPAL

CLASS - V

CBT - SEPTEMBER

SUBJECT - MATHS

Syllabus covered - Can you see the Pattern

1. Which is odd one out ?



(i)



(ii)




(iii)



(iv)

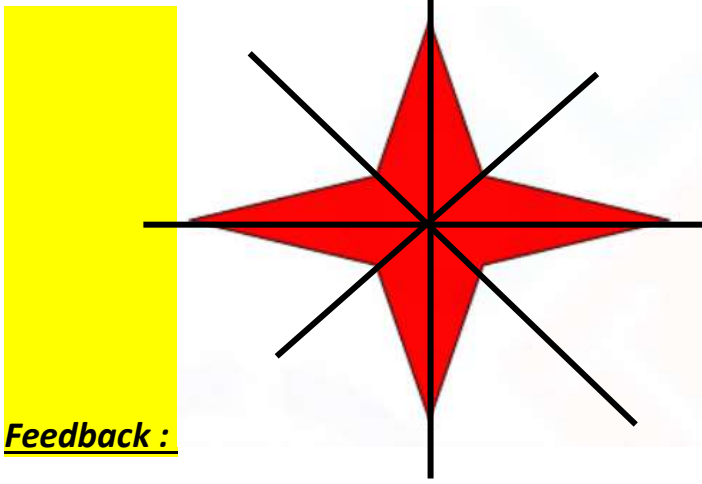
Ans C

2. How many line(s) of symmetry does this figure have?

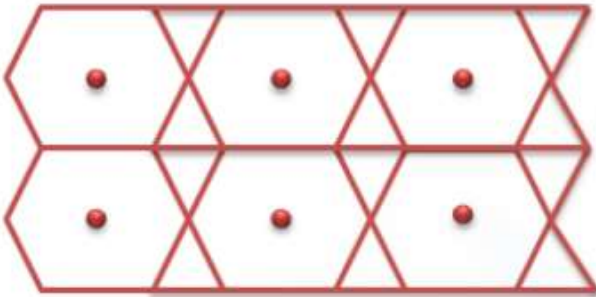


- a. 2 lines
- b. 3 lines
- c. 4 lines
- d. 8 lines

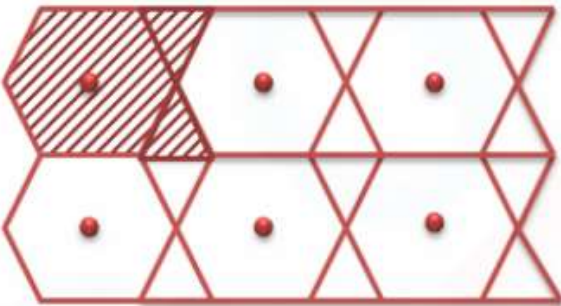
Ans. c) 4



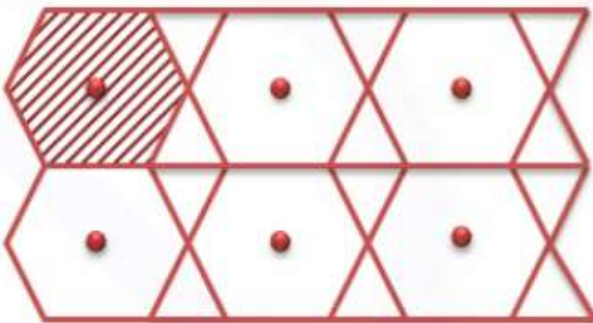
3. From the tessellation given below choose the correct option which shows one unit shape of the tessellation

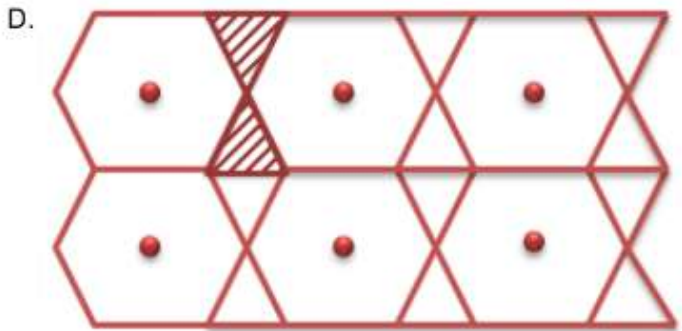



A.



B.





ANS A



4. What is the number represented by ?

$$\begin{array}{c}
 \text{Monster} + \text{Apple} + \text{Monster} = 28
 \end{array}$$

$$\begin{array}{c}
 \text{Apple} + \text{Apple} + \text{Apple} = 30
 \end{array}$$

$$\begin{array}{c}
 \text{?} + \text{Apple} + \text{Monster} = 30
 \end{array}$$

- a. 9
- b. 11
- c. 13
- d. 15

Ans. b) 11

Feedback : 3 apples = 30, 1 apple = 10 (Row-2)

1 apple + 2 dolls = 28, 2 dolls = 28-10= 18, 1 doll = 9 (ROW-1)

? + 1 apple + 1 doll = 30, ? + 10+ 9 =30, ? =11

5. Study this number pattern carefully and choose the correct answer for 7th pattern.

<u>Pattern</u>	<u>Number Sentence</u>	<u>Answer</u>
1	111 ÷ 37	3
2	222 ÷ 37	6
3	333 ÷ 37	9

- a. 21
- b. 24
- c. 40
- d. 32

Ans. a. 21

Feedback : Row 1 – 3,

Row2 – 6

Row 3 – 9

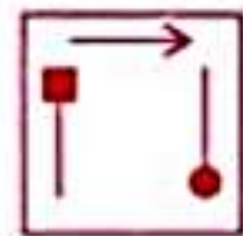
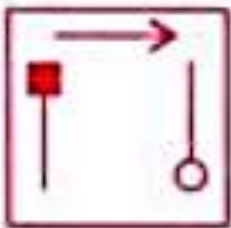
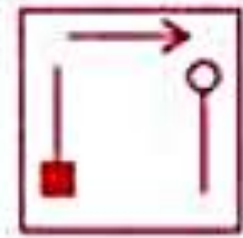
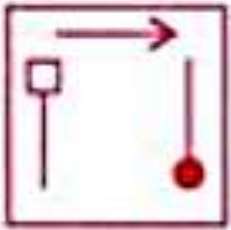
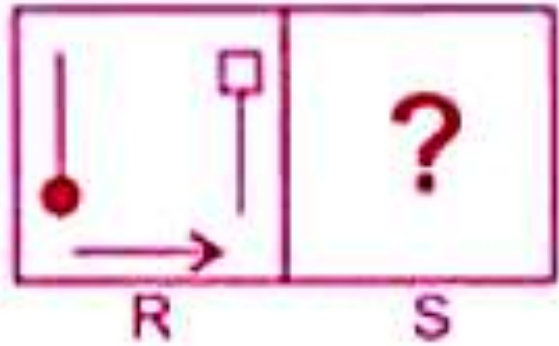
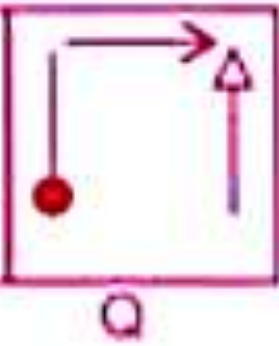
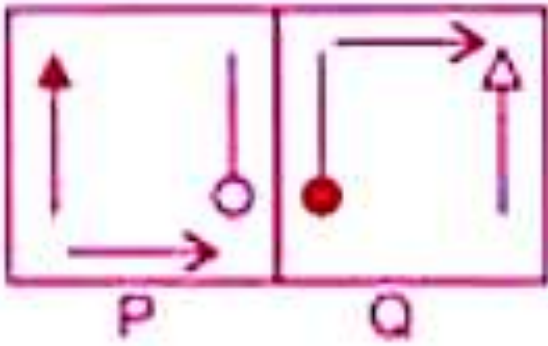
Row4 – 12

Row5 – 15

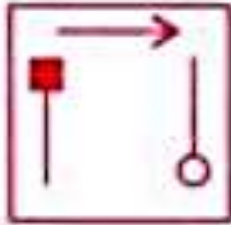
Row6 – 18

Row7 – 21

6. There is certain relationship between figure P and Q. Using similar relationship between figure R and S select a suitable picture which will replace ?



ANS C



Feedback :

7. Which of the following option is the correct mirror image of figure?





Fig. (X)



Mirror



Ans. C



Feedback :

8. Garima is facing community centre. What will she be facing if she turns 270° clockwise?



- a. Mall
- b. School
- c. Park
- d. Temple

Ans d. Temple

Feedback :



9. Which of the following figure will complete the pattern?

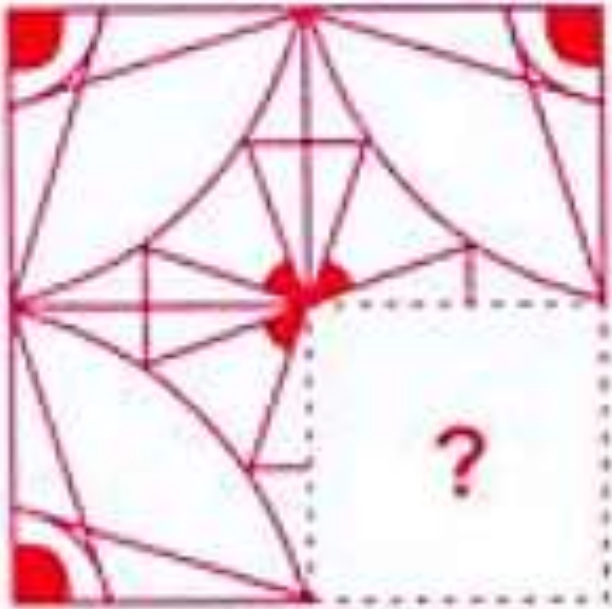


Fig. (X)



Ans C

Feedback :

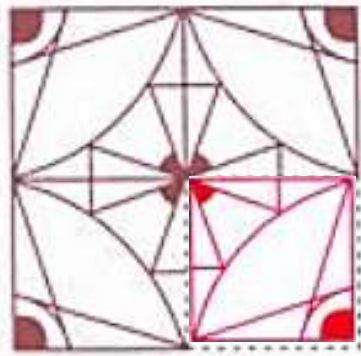
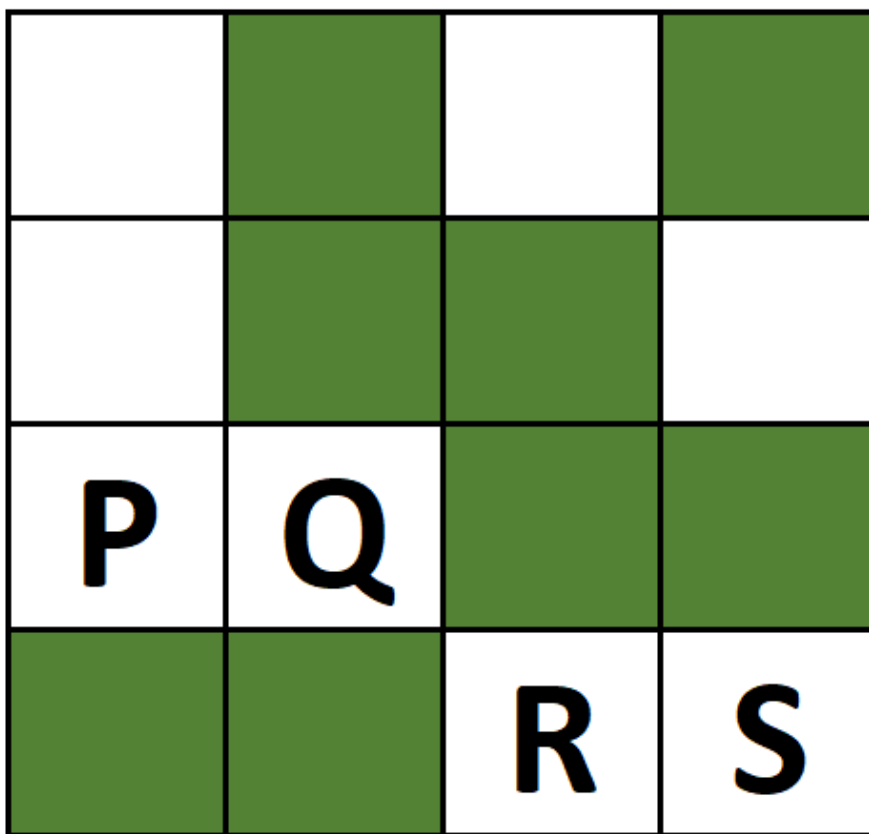


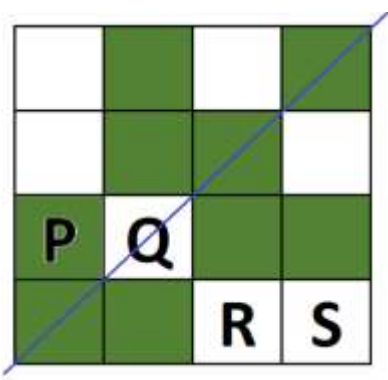
Fig. (X)

10. Which square must be shaded so that the figure has a line of symmetry?



Ans. a. P

Feedback :



KENDRIYA VIDYALAYA SANGATHAN

REGIONAL OFFICE - BHOPAL

CLASS – V

CBT

SUBJECT – EVS

Syllabus covered - Walls Tell Stories, Sunita In Space

Identify

1. Who was the first man to walk on moon?

- a) Neil Armstrong
- c) Sumit William's
- b) Rakesh sharma
- d) none of these

Ans. a) Neil Armstrong

Feedback : Neil Armstrong was the first man to walk on moon

2. Name the two movement of of Earth.

- a) Rotation and Revolution
- b) straight and round
- c) flotation and straight
- d) none of these

Ans. a) Rotation and Revolution

Feedback : the two movement of of Earth are **Rotation and Revolution**

3. What is kept in Museum?

- a) pottery
- b) clothes
- c) weapons.
- d) All of these

Ans. d) All of these

Feedback : All of these things are kept in the museum

4. A shooting star is actually a---

- a) meteors
- b) comets
- c) Both a and b
- d) none of these

Ans. a) meteors

Feedback : A shooting star is actually a meteors

5. Which state is famous for stepwell ?

- a) Madhya Pradesh
- b) Gujarat
- c) Maharashtra
- d) Rajasthan

Ans. d) Rajasthan

Feedback : Rajasthan is famous for stepwell

Observation

1. _____ is a big gun.




- a) tank
- b) Cannon
- c) Bastions
- d) none of above

Ans b) Cannon

Feedback : It is a picture of a canon

2. Why were these made in the fort wall for?



- a) decoration.
- b) See the enemies from long distance
- c) meeting places
- d) Housing for soldiers

Ans. b) See the enemies from long distance

Feedback : These structures were made to See the enemies from long distance

3. _____ is the model of Earth.



- a) Globe
- b) Map
- c) Sun
- d) all of these

Ans. a) globe

Feedback : this is a picture of a globe

4. Name the planet.




- a) Jupiter
- b) Mars
- c) Saturn
- d) Neptune

Ans. c) Saturn

Feedback : Saturn has rings around it.

5. Which famous monument is this and where it is situated?



- a) Red fort, Agra
- b) Taj Mahal, Jaipur
- c) Hawa Mahal, Mandav
- d) Taj Mahal, Agra

Ans. d) Taj Mahal, Agra

Feedback : It is tajmahal and situated in Agra